
















GUJARAT MOTOR VEHICLES DEPARTMENT
LEARNER'S LICENCE COMPUTER TEST
THE MOTOR VEHICLES ACT, 1988 & RULES
QUESTION BANK






No.	Question	Option 1	Option 2	Option 3	Picture	Answer No.	Sign
1	રાહદારીઓ માટેના કોસીંગ ઉપર રાહદારી રોડ કોસ કરવા ઉભા હોય ત્યારે તમે શું કરશો?	હોર્ન વગાડી આગળ વધશો	વાહન ધીમું પાડીને હોર્ન વગાડી આગળ વધશો	વાહન ઉભું રાખી દઇ રાહદારીઓ રોડ કોસ કરી લે ત્યાં સુધી થોભી પછી આગળ વધશો	ના	3	
2	નીચે મુજબની નિશાની શું બતાવે છે?	વાહન થોભો	નો પાર્કીંગ	આગળ હોસ્પિટલ છે	હા	૧	
3	તમે સાંકડા નાળા પાસે પહોંચો છો, સામેથી નાળામાં બીજું વાહન વાહન પ્રવેશે છે તમે શું કરશો?	તમારી ઝડપ વધારી જેમ બને તેમ ઝડપથી નાળુ પસાર કરશો	હેડ લાઇટ ચાલુ કરી નાળુ પસાર કરશો	સામેનું વાહન પસાર થાય ત્યાં સુધી થોભી ત્યારબાદ આગળ વધશો	ના	3	
4	નીચે મુજબની નિશાની શું બતાવે છે?	ડાબીબાજુ હાંકો	ડાબી બાજુ રસ્તો નથી	ફરજીયાત ડાબી બાજુ રાખો	હા	૧	
5	વાહને અકસ્માત કરી જ્યારે કોઇ વ્યક્તિને ઇજા કરેલ હોય ત્યારે	વાહન નજીકના પોલીસ સ્ટેશનમાં લઇ જઇ અકસ્મતનો રીપોર્ટ લખાવશો	વાહન ત્યાં જ થોભાવી પોલીસ સ્ટેશનમાં રીપોર્ટ લખાવશો	ઘાયલ વ્યક્તિને સારવાર મળે તે માટેના દરેક પગલાં લઇ ૨૪ કલાકમાં પોલીસ સ્ટેશને રીપોર્ટ લખાવશો	ના	3	
6	નીચે મુજબની નિશાની શું બતાવે છે?	રસ્તો આપો	હોસ્પિટલ છે	આગળ ટ્રાફિક આઇલેન્ડ છે	હા	૧	
7	જે રોડ વન-વે તરીકે જાહેર થયેલ હોય ત્યાં	પાર્કિંગની મનાઇ છે	ઓવર ટેકિંગની મનાઇ છે	રીવર્સ ગીયરમાં વાહન ચલાવવું નહીં	ના	3	
8	નીચેની સંજ્ઞા શું બતાવે છે?	નો એન્ટ્રી	વન-વે	ગતિ મર્યાદાનો અંત	હા	૧	







9	તમે કોઇપણ વાહનને કઇ બાજુથી ઓવરટેઇક કરી શકો છો?	આગળનાં વાહનની જમણી બાજુથી	આગળના વાહનની ડાબી બાજુથી	જો રસ્તો પહોળો હોય તો ડાબી બાજુથી	ના	૧	
10	નીચે મુજબની નિશાની શું બતાવે છે?	જમણી બાજુ વળવું મનાઇ છે	જમણીબાજુ તીવ્ર વળાંક	યુ ટર્ન લેવાની મનાઇ છે	હા	૨	
11	જ્યારે ફાટક વગરના રેલ્વે કોસીંગ પાસે વાહન પહોંચે છે ત્યારે ફાટક કોસ કરતાં પહેલા ફાઇવર શું કરશ?	રસ્તાની ડાબી બાજુ વાહન ઉભું રાખી નીચે ઉતરીને ફાઇવર રેલ્વે લાઇન ઉપર જઇ ખાતરી કરશે કે ટ્રેઇન / ટ્રોલી આવતી નથી	હોર્ન વગાડીને બને તેટલી ઝડપથી રેલ્વે લાઇન કોસ કરશે	ટ્રેઇન પસાર થાય ત્યાં સુધી થોભશે	ના	૧	
12	નીચે મુજબની નિશાની શું બતાવે છે?	રાહદારી નું કોસીંગ	રાહદારી પ્રવેશ કરી શકે છે	રાહદારી માટે મનાઇ છે	હા	૧	
13	કાચાલાયસન્સ ની મુદત કેટલી છે?	જ્યાં સુધી ફાઇવીંગ લાયસન્સ મેળવો ત્યાં સુધી	૬ મહિના	૩૦ દિવસ	ના	૨	
14	નીચે મુજબની નિશાની શું બતાવે છે?	રોડની જમણીબાજુ વાહન હાંકો	જમણીબાજુ પાર્કીંગ માન્ય છે	ફરજિયાત ડાબી બાજુ વાળવું	હા	૨	
15	ફૂટપાથ વગરના રોડ ઉપર રાહદારીએ શું કરવું?	રોડની ડાબી બાજુએ ચાલવું	રોડની જમણી બાજુએ ચાલવું	રોડની કોઇપણ બાજુએ ચાલવું	ના	૨	
16	નીચે મુજબની નિશાની શું બતાવે છે?	યુ ટર્ન લેવાની મનાઇ	જમણી બાજુ વાળવાની મનાઇ	ડાબી બાજુથી ઓવર ટેકિંગ કરવાની મનાઇ	હા	૧	
17	નીચે મુજબના વાહનોને જવા માટે અગ્રતા આપવી	નાના વાહનો	એમ્બ્યુલન્સ અને ફાયર ફાઇટર વાહન	એક્સપ્રેસ તથા સુપર એક્સપ્રેસ બસ	ના	૨	
18	નીચે મુજબની નિશાની શું બતાવે છે?	હોર્ન વગાડવાની મનાઇ છે	ફરજિયાત હોર્ન વગાડવો	હોર્ન વગાડી શકાય	હા	૧	
19	રાત્રી દરમિયાન જ્યારે રોડની સાઇડમાં વાહન થોભાવો ત્યારે?	વાહનને લોક કરવું	ફાઇવીંગ લાયસન્સ ધરાવનાર વ્યક્તિ ફાઇવીંગ સીટ ઉપર બેઠેલી હોવી જોઇએ	વાહનની પાર્કીંગ લાઇટ ચાલુ કરવી જોઇએ	ના	૩	








20	નીચે મુજબની નિશાની શું બતાવે છે?	સામે બંને તરફ રોડ છે	આગળ સાંકડો બ્રીજ છે	આગળ સાંકડો રસ્તો છે	હા	૨	
21	ધુમ્મસ લેમ્પ (ફ્લોગ લેમ્પ) નો ઉપયોગ કરવામાં આવે છે	રાત્રિ દરમ્યાન	વાતાવરણમાં ધુમ્મસ હોય ત્યારે	સામેનું વાહન જ્યારે ડીમ લાઇટનો ઉપયોગ ન કરે ત્યારે	ના	૨	
22	નીચે મુજબની નિશાની શું બતાવે છે?	રસ્તો બંધ છે	પાકીંગની મનાઇ છે	ગતિ મર્યાદાનો અંત	હા	૩	
23	રોડ ઉપર ઝિબ્રા લાઇન્સ શું દર્શાવે છે?	વાહન ઉભું રાખવું	રાહદારીને રોડ ક્રોસ કરવા માટેનો રસ્તો	વાહનોને અગ્રતા આપવી	ના	૨	
24	નીચે મુજબની નિશાની શું બતાવે છે?	આગળ સાંકડો રસ્તો છે	આગળ સાંકડું નાળું છે	આગળ બંને બાજુ રસ્તા છે	હા	૧	
25	તમારી પાછળ જો એમ્બ્યુલન્સ નજીક આવી ગઇ હોય તો	સામેથી જો કોઇ વાહન આવતું હોય તો સાઇડ આપી દો	કોઇ અગ્રતા આપવાની જરૂર નથી	ડ્રાઇવર પોતાનું વાહન રોડની ડાબી બાજુમાં લઇને રસ્તો ખુલ્લો કરી આપશે	ના	૩	
26	નીચે મુજબની નિશાની શું બતાવે છે?	નજીકમાં રેલ્વે સ્ટેશન છે	ફાટક વગરનું રેલ્વે ક્રોસીંગ છે	ફાટકવાળું રેલ્વે ક્રોસીંગ છે	હા	૩	
27	ટ્રાફિક સિગ્નલમાં લાલ લાઇટ શું દર્શાવે છે?	સાવચેતી રાખીને વાહન આગળ વધી શકે છે	વાહન થોભાવો	વાહન ધીમે રાખો	ના	૨	
28	નીચે મુજબની નિશાની શું બતાવે છે?	જમણી બાજુ પ્રવેશની મનાઇ છે	ડાબી બાજુ પ્રવેશની મનાઇ છે	ઓવર ટેકિંગ મનાઇ છે	હા	૩	
29	જ્યાં રસ્તો લપસણો છે તેવી નિશાની દેખાઇ ત્યારે ડ્રાઇવર	ગીચબ બદલીને ગતિ ધીમી કરશે	બ્રેક લગાવશે	એ ગતિએ જ આગળ વધશે	ના	૧	
30	નીચે મુજબની નિશાની શું બતાવે છે?	આગળ ક્રોસ રોડ (બે રસ્તાઓ ભેગા થાય છે / ચાર રસ્તા છે) છે.	પ્રવેશ મનાઇ	હોસ્પિટલ	હા	૧	
31	નીચેના સંજોગોમાં ઓવર ટેકિંગની મનાઇ છે.	અન્ય ટ્રાફિકને જ્યારે ભય ઉભો થાય તેવી શક્યતા હોય ત્યારે	આગળના વાહનની ગતિ ધીમી પડે ત્યારે	રાત્રિ દરમ્યાન	ના	૧	






32	નીચે મુજબની નિશાની શું બતાવે છે?	ડાબી બાજુ વાળી શકાય	ફરજિયાત આગળ વધો અથવા ડાબી બાજુ વાહન વાળી શકાય	ડાબી બાજુ સાઇડ રોડ છે	હા	૨	
33	પી.યુ.સી. સર્ટીફિકેટની મુદત કેટલી છે?	૬ મહિના	૧ વર્ષ	૨ વર્ષ	ના	૧	
34	નીચે મુજબની નિશાની શું બતાવે છે?	હોર્ન વગોડવો ફરિજિયાત છે	હોર્ન સતત વગોડવો	હોર્ન વગોડવાની મનાઇ છે	હા	૧	
35	વળાંક નજીક પહોંચો ત્યારે ઓવર ટેઇક કરવું?	માન્ય છે	માન્ય નથી	કાળજી લઇને માન્ય છે	ના	૨	
36	નીચે મુજબની નિશાની શું બતાવે છે?	આગઇ જમણીબાજુ રસ્તો છે	ફરિજિયાત જમણી બાજુ	જમણીબાજુ વળવાની મનાઇ છે	હા	૧	
37	નશો કરીને ડ્રાઇવિંગ કરવું	પ્રાઇવેટ વાહનમાં મંજૂર છે	રાત્રિ દરમિયાન મંજૂર છે	કોઇપણ વાહનમાં મનાઇ છે	ના	૩	
38	નીચે મુજબની નિશાની શું બતાવે છે?	અંકુશનો અંત	વાહનને અલ્પ સમય માટે પણ ઉભું રાખવાની મનાઇ	પાર્કિંગની મનાઇ	હા	૨	
39	પાછળનું દ્રશ્ય જોવાનો અરીસો શા માટે વપરાય છે?	પોતાનો ચહેરો જોવા માટે	પાછળથી આવતા વાહનો જોવા માટે	પાછળની સીટ ઉપર બેઠેલા વ્યક્તિને જોવા માટે	ના	૨	
40	નીચે મુજબની નિશાની શું બતાવે છે?	સીધા જાવ	એકમાર્ગી રસ્તો	બંને દિશામાં જવું મનાઇ છે	હા	૧	
41	વાહન ગતિમાં હોય ત્યારે વાહનમાંથી ઉતરવું કે ચઢવું	બસમાં માન્ય છે	ઓટો રિક્ષામાં માન્ય છે	કોઇપણ વાહનમાં માન્ય નથી	ના	૩	
42	નીચે મુજબની નિશાની શું બતાવે છે?	બધા પ્રકારના વાહનો માટે પ્રવેશ બંધ	કાર તથા મોટર સાઇકલ માટે પ્રવેશ બંધ છે	કાર તથા મોટર સાઇકલ માટે પ્રવેશ ચાલુ	હા	૧	
43	જ્યારે વાહનમાં બળતણ (પેટ્રોલ / ડીઝલ / ગેસ) ભરતા હોય ત્યારે	હવા ચેક કરવાની મનાઇ છે	ધુમ્પાન કરવું નહિ	વાહનની કોઇપણ લાઇટ ચાલુ કરવી નહિ	ના	૨	





44	નીચે મુજબની નિશાની શું બતાવે છે?	ટ્રક માટે પ્રવેશની મનાઇ છે	બસ માટે પ્રવેશની મનાઇ છે	હેવી વાહનો માટે પ્રવેશની મનાઇ છે	હા	૧	
45	ઓવર ટેકીંગની મનાઇ છે	જયારે આગળનો રસ્તો બરાબર ન દેખાતો હોય ત્યારે	રાત્રિ દરમ્યાન	રસ્તામાં સેન્ટરમાં સફેદ તૂટક લાઇનનું માર્કીંગ કરેલ હોય ત્યારે	ના	૧	
46	નીચે મુજબની નિશાની શું બતાવે છે?	બળદગાડા માટે પ્રવેશની મનાઇ છે	સાઇકલ માટે પ્રવેશની મનાઇ છે	બધા જ વાહનો માટે પ્રવેશની મનાઇ છે	હા	૧	
47	રાત્રે જયારે તમે હેડ લાઇટના દૂરનાં બીમથી ડ્રાઇવીંગ કરો છો ત્યારે સામેથી બાજુથી વાહન આવે ત્યારે	રોડની ડાબી બાજુ વાહન રાખીને આગળ વધશો	હેડ લાઇટ, ડીમ, ફૂલ વારાફરતી ઘણીવાર કરશો	સામેનું વાહન પસાર થઇ રહ્યું હોય ત્યાં સુધી ડીમ હેડ લાઇટ રાખશો	ના	૩	
48	નીચે મુજબની નિશાની શું બતાવે છે?	વિદ્યાર્થી માટે મનાઇ છે	રાહદારી માટે માન્ય છે	રાહદારી માટે મનાઇ છે	હા	૩	
49	જરૂરીયાત વગર હોર્નનો વારંવાર ઉપયોગ ગુન્હો બને છે.	હા	ના	એવો કાયદો નથી.	ના	૧	
50	નીચે મુજબની નિશાની શું બતાવે છે?	જમણીબાજુ ઓવર ટેઇક કરવાની મનાઇ છે	ડાબી બાજુ વળાંક લેવો	ડાબી બાજુ વળવાની મનાઇ છે	હા	૩	
51	નોન ટ્રાન્સપોર્ટ વાહન સાથે રાખવાના દસ્તાવેજો	આર.સી.બુક, પીયુસી, વિમા પ્રમાણપત્ર, મોટર ડ્રાઇવીંગ લાયસન્સ	આર.સી.બુક, વિમા પ્રમાણપત્ર, ટેક્સ ટોકન	આર.સી.બુક, પરમીટ, ટ્રીપશીટ	ના	૧	
52	નીચે મુજબની નિશાની શું બતાવે છે?	૫૦ કિ.મી/કલાક કરતાં વધુ ઝડપે વાહન ચલાવવું નહિ	૫૦ કિ.મી/કલાકની ઝડપે વાહન ચલાવવું	૫૦ કિ.મી/કલાક કરતાં વધુ ઝડપે વાહન ચલાવવું	હા	૧	
53	કોઇપણ વાહન ચલાવતી વખતે મોબાઇલ ઉપર વાત કરવી જોઇએ.	હા	ના	વાહન ધીમું કરીને વાત કરવી.	ના	૨	



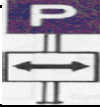



54	નીચે મુજબની નિશાની શું બતાવે છે?	ફરજીયાત સીધા જાઓ અથવા જમણે વળો	ફરજીયાત સીધા જાઓ અથવા ડાબે વળો	આગળ સાઇડ રોડ છે.	હા	૧	
55	સીટ ઉપર લગાવેલ હેડ રેસ્ટ કઈ રીતે ઉપયોગી છે.	ડ્રાઇવિંગ કરતાં આરામ મળે છે	અકસ્માત વખતે ડોકની ઇજાથી બચાવે છે	સીટ સારી દેખાય તે માટે છે.	ના	૨	
56	તમે જ્યારે સ્કુલની ટ્રાફિક સંજ્ઞા જુઓ ત્યારે	વાહન થોભાવો, હોર્ન વગાડો અને આગળ વધો	વાહન ધીમું કરો અને સાવચેતીથી આગળ વધો	સતત હોર્ન ચાલુ રાખો અને આગળ વધો	હા	૨	
57	ડાબી બાજુનો વળાંક લેતી વખતે તમે શું કરશો?	ડાબી બાજુનું સિગ્નલ બતાવી વાહન સેન્ટરમાં લઈ ડાબી બાજુ વળાંક લઈશું	હોર્ન વગાડી ડાબી બાજુ વળાંક લઈશું	ડાબી બાજુનું સિગ્નલ બતાવી રોડની ડાબી સાઇડ વાહન રાખીને વળાંક લઈશું	ના	૩	
58	નીચે મુજબની નિશાની શું બતાવે છે?	ડાબી બાજુનો વળાંક	ડાબી બાજુ ચઢાણ	ડાબી બાજુ રાખો	હા	૧	
59	ડ્રાઇવર પોતાનો જમણો હાથ બહાર કાઢી હથેળી નીચેની તરફ રાખી હાથ ઘણીવાર ઉપર નીચે કરે છે ત્યારે શું સમજશો?	તે ડાબી બાજુ વળવા માંગે છે	તે વાહન ધીમું કરી રહ્યો છે	તે પાછળ આવતા વાહનને ઓવરટેક કરવા કહે છે	ના	૨	
60	નીચે મુજબની નિશાની શું બતાવે છે?	જમણીબાજુ ચીપીયા જેવો વળાંક	જમણી બાજુ ચઢાણ અને ઢાળ	જમણી બાજુ ઢાળ	હા	૧	
61	ગીયર વગરના મોટર સાઇકલનું લાઇસન્સ મેળવવા માટે ઓછામાં ઓછી ઉંમર કેટલી જોઈએ	૧૮ વર્ષ	૨૧ વર્ષ	૧૬ વર્ષ	ના	૩	
62	નીચે મુજબની નિશાની શું બતાવે છે?	ડાબી બાજુ ઢાળ	ડાબી બાજુ ચીપીયા જેવો વળાંક	વાહન રસ્તાની ડાબી બાજુ રાખો	હા	૨	
63	ડાબી બાજુ વળાંક લેતી વખતે મોટર સાઇકલ ચલાવનાર શું કરશ?	પોતાનો ડાબો હાથ બહાર કાઢી ડાબી બાજુ બતાવશે	હાથથી સિગ્નલ બતાવશે નહિ	પોતાના જમણા હાથથી ડાબી બાજુ જવા સિગ્નલ બતાવશે	ના	૩	






64	નીચે મુજબની નિશાની શું બતાવે છે?	વાંકો ચૂકો રસ્તો જમણી બાજુ	વાંકો ચૂકો રસ્તો ડાબી બાજુ	જમણી બાજુ વળાંક લઇ આગળ વધો	હા	૧	
65	યુ ટર્ન લેતી વખતે સિગ્નલ કઇ રીતે દર્શાવાય	ડાબી બાજુ વળવાનો સિગ્નલ	જમણી બાજુનો વળવાનો સિગ્નલ	ધીમું પાડવાનો સિગ્નલ	ના	૨	
66	નીચે મુજબની નિશાની શું બતાવે છે?	વાંકો ચૂકો રસ્તો જમણી બાજુ	વાંકો ચૂકો રસ્તો ડાબી બાજુ	ડાબી બાજુ વળાંક લઇ આગળ વધો	હા	૨	
67	વાહનનો ડ્રાઇવર યુ ટર્ન લેશે નહિ	જ્યાં યુ ટર્ન લેવાની મનાઇ હોય તેવા રોડ ઉપર	વ્યસ્ત રોડ ઉપર	ડાબી બાજુથી વાહનો પસાર થતા હોય ત્યારે	ના	૧	
68	નીચે મુજબની નિશાની શું બતાવે છે?	વાય કોસીંગ ડાબી બાજુ	વાય કોસીંગ જમણી બાજુ	વાય કોસીંગ	હા	૩	
69	જાહેર જગ્યામાં અન રજીસ્ટર્ડ વાહન વાપરવું એ	ગેરકાયદેસર છે	કાયદેસર છે	અનિવાર્ય સંજોગોમાં વાપરી શકાય	ના	૧	
70	નીચે મુજબની નિશાની શું બતાવે છે?	ડાબી બાજુ સાઇડ રોડ છે	ગતિ મર્યાદા	એકસેલ વજનની મર્યાદા	હા	૩	
71	સામેથી આવતા વાહનને તમારી કઇ સાઇડથી પસાર થવા દેશો?	તમારી જમણી બાજુથી	તમારી ડાબી બાજુથી	કોઇપણ અનુકૂળ બાજુથી	ના	૧	
72	નીચે મુજબની નિશાની શું બતાવે છે?	જમણી બાજુ વાળો	જમણી બાજુ સાઇડ રોડ છે	રોડની જમણી સાઇડ વાહન ચલાવો	હા	૧	
73	વાહનનો ડ્રાઇવર ઓવર ટેઇક કરી શકે છે?	જ્યારે ચઢાણ ઉપરથી નીચે ઉતરતી વખતે	જો રસ્તો પૂરતા પ્રમાણમાં પહોળો ન હોય ત્યારે	આગળ જતા વાહનનો ડ્રાઇવર ઓવર ટેઇક કરવા દેવાની નિશાની બતાવે ત્યારે	હા	૩	
74	નીચે મુજબની નિશાની શું બતાવે છે?	જમણી બાજુ વાળો	ડાબી બાજુ વાળો	ગોળ ફરીને જાવ	હા	૩	
75	ચાર રસ્તા ઉપર ટ્રાફિક સિગ્નલની પીળી લાઇટ દેખાય ત્યારે ત્યાં પહોંચતા વાહનનો ડ્રાઇવર	સલામતી નક્કી કરીને વાહન હંકારી જશે	થોભવા માટે વાહન ધીમું પાડશે	હોર્ન વગાડશે અને આગળ વધશે	ના	૨	

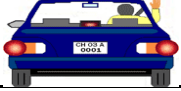



76	નીચે મુજબની નિશાની શું બતાવે છે?	આગળ સાંકડો રસ્તો છે	ભયજનક સૂપડી છે	હોડી સેવા છે	હા	૨	
77	ડાઇવર રસ્તા ઉપર પોતાનું વાહન કઇ બાજુ ચલાવશે?	રસ્તાની જમણી બાજુ	રસ્તાની ડાબી બાજુ	રસ્તાની મધ્યમાં	હા	૨	
78	નીચે મુજબની નિશાની શું બતાવે છે?	ડાબી બાજુ વાય કોસીંગ	જમણી બાજુ વાય કોસીંગ	ડાબી બાજુ સાઇડ રોડ છે	હા	૨	
79	જ્યારે તમારું વાહન ઓવર ટેઇક થઇ રહ્યું હોય ત્યારે	તમારું વાહન થોભાવો અને તેને અન્ય વાહનને ઓવર ટેઇક કરવા દો	તમારા વાહની ગતિ ઘટાડી દેશો	બીજા વાહનને ઓવર ટેઇક કરતાં ખલેલ પહોંચાડશો નહીં	ના	૨	
80	નીચે મુજબની નિશાની શું બતાવે છે?	ડાબી બાજુ વાળો	જમણી બાજુ વાળો	વાય કોસીંગ ડાબી બાજુ	હા	૩	
81	જ્યાં પાકીંગની મનાઇ છે તેવી કઇ જગ્યા છે?	પાકીંગ કરેલ વાહનની સામેની જગ્યા	એકમાર્ગી રસ્તા ઉપર	ફૂટપાથ ઉપર	ના	૩	
82	નીચે મુજબની નિશાની શું બતાવે છે?	વાહન લપસી જાય તેવો ચીકણો રસ્તો	પથ્થરવાળો કાચો રસ્તો	મોટરકાર માટે મનાઇ છે	હા	૧	
83	વાહનની હેંડ બ્રેકનો ઉપયોગ શા માટે કરવામાં આવે છે?	વાહનની ગતિ ધીમી કરવા માટે	અચાનક બ્રેક મારવા માટે	વાહન પાકીંગ કરવા માટે	ના	૩	
84	નીચે મુજબની નિશાની શું બતાવે છે?	છૂટા પથ્થરવાળો રસ્તો	લપસી જવાય તેવો ચીકણો રસ્તો	મોટર કાર માટે પ્રવેશ મનાઇ	હા	૧	
85	બે કરતાં વધુ વ્યક્તિઓને મોટર સાઇકલ ઉપર જાય તો?	અનિવાર્ય સંજોગોમાં	કાચદાની ભંગ થાય છે	જ્યારે ટ્રાફિકનું પ્રમાણ હળવું હોય ત્યારે	ના	૨	
86	નીચે મુજબની નિશાની શું બતાવે છે?	સાઇકલ કોસીંગ	સાઇકલ કોસ કરવાની મનાઇ	સાઇકલ માટે પ્રવેશ બંધ	હા	૧	
87	હોસ્પિટલ પાસે તમે એક વાહનને ઓવર ટેઇક કરવા માંગો છો, તો શું કરશો?	તમે સતત હોર્ન વગાડશો	હોર્ન વગાડશો નહિ	ફક્ત તૂટક તૂટક હોર્ન વગાડશો	ના	૨	
88	નીચે મુજબની નિશાની શું બતાવે છે?	પશુ માટે મનાઇ છે	રસ્તા ઉપર પશુની શક્યતા છે	વાહનમાં પશુ લઇ જવાની મનાઇ છે	હા	૨	







89	વાહનનો વીમો કરાવવો જરૂરી છે?	હા	ના	જેણે જીવન વીમો લીધો હોય તેને જરૂરી નથી.	ના	૧	
90	નીચે મુજબની નિશાની શું બતાવે છે?	આગળ સ્કુલ છે	રાહદારીનું કોસીંગ	રાહદારી માટે કોસીંગ મનાઇ છે	હા	૧	
91	કઈ પરિસ્થિતિમાં ઓવર ટેકીંગ કરવાની મનાઇ છે	સ્ટેટ હાઇવે	પંચાયત રોડ ઉપર	સાંકડા પુલ ઉપર	ના	૩	
92	નીચે મુજબની નિશાની શું બતાવે છે?	રસ્તા ઉપર માણસ કામ કરે છે	બાળકો રમે છે	રાહદારીનું કોસીંગ છે	હા	૧	
93	કોઈ વ્યક્તિ ઢોર કે પશુ લઇ જઇ રહી છે અને તમને શંકા છે કે પશુ ભડકશે અને કંટ્રોલમાં રહેશે નહિ આથી તે ચાલક વાહનને	વાહન થોભાવી દેશે	હોર્ન વગાડીને વાહન આગળ લઇ જશે	પોતાના વાહનની ગતિ ધીમી પાડશે	ના	૧	
94	નીચે મુજબની નિશાની શું બતાવે છે?	ખરબચડો રોડ	ચીકણો રસ્તો	ખડકના પથ્થરો ઉપરથી પડે તેમ છે	હા	૩	
95	નીચે મુજબના કિસ્સામાં પાર્કીંગ મનાઇ છે	રસ્તાની બાજુમાં	જ્યાં પાર્કીંગ કરવું માન્ય છે	ટ્રાફિક સિગ્નલ લાઇટ પાસે	ના	૩	
96	નીચે મુજબની નિશાની શું બતાવે છે?	આગળ પુલ છે	આગળ હોડા સેવા છે	નાસ્તા પાણી માટેનો સ્ટોલ છે	હા	૩	
97	ગતિ મર્યાદા કરતા વધુ ગતિએ વાહન હાંકવું	એ ગુન્હો બને છે અને ડ્રાઇવિંગ લાઇસન્સ સસ્પેન્ડ અથવા કેન્સલ થઇ શકે છે?	એ ગુન્હો બને છે ઇંડ ભોગવવાની સજા થઇ શકે છે	બંને થઇ શકે છે	ના	૩	
98	નીચે મુજબની નિશાની શું બતાવે છે?	સીધું ચઢાણ	સીધુ ઉતરાણ	ચીકણો રસ્તો	હા	૧	





99	જ્યારે સ્કુલ બસ વિદ્યાર્થીઓને ચઢવા અથવા ઉતારવા માટે ઉભી હોય ત્યારે	હોર્ન વગાડો અને આગળ વધો	ધીમેથી અને સાવચેતીથી આગળ વધો કારણ કે વિદ્યાર્થી અચાનક રોડ ક્રોસ કરે તેવી શક્યતા છે	ખાસ કાળજી લેવાની જરૂર નથી	ના	૨	
100	નીચે મુજબની નિશાની શું બતાવે છે?	સીધું ચઢાણ	સીધું ઉતરાણ	ચીકણો રસ્તો	હા	૨	
101	જ્યાં અંધ વ્યક્તિ સફેદ લાકડી હાથમાં પકડી રોડ ક્રોસ કરે ત્યારે	વાહનનો ડ્રાઇવર સફેદ લાકડીને વાહન ઉભું રાખવા માટેનું ટ્રાફિક સિગ્નલ ગણશે	હોર્ન વગાડશો અને આગળ વધશો	વાહન ધીમું કરશો અને સાવચેતીથી આગળ	ના	૧	
102	નીચે મુજબની નિશાની શું બતાવે છે?	આગળ સાંકડો રસ્તો છે	વાય ક્રોસીંગ છે	આગળ રસ્તો પહોળો છે	હા	૩	
103	જ્યારે મોટર વાહન અકસ્માતમાં સંડોવાય ત્યારે આ વાહન હાંકનાર	નજીકના પોલીસ સ્ટેશનમાં ૨૪ કલાકમાં જાણ કરશે	નજીકના પોલીસ સ્ટેશનમાં ૧૨ કલાકમાં જાણ કરશે	નજીકના પોલીસ સ્ટેશનમાં ૪૮ કલાકમાં જાણ કરશે	ના	૧	
104	નીચે મુજબની નિશાની શું બતાવે છે?	રસ્તાની મધ્યમાં ગટર લાઇન છે	આગળ પુલ છે	રોડ ડીવાઇડરમાં જગ્યા છે	હા	૩	
105	અકસ્માતને લીધે જ્યારે ત્રીજી વ્યક્તિની સંપત્તિ નુકશાન થાય ત્યારે	ડ્રાઇવર નજીકના પોલીસ સ્ટેશનમાં ૨૪ કલાકમાં જાણ કરશે	ડ્રાઇવર નજીકના પોલીસ સ્ટેશનમાં દિન-૭માં જાણ કરશે	કોઇપણ પોલીસ સ્ટેશનમાં જાણ કરવી જરૂરી નથી	ના	૧	
106	નીચે મુજબની નિશાની શું બતાવે છે?	ખાડા ટેકરાવાળો કે સ્પીડ બ્રેકર	વાંકો ચૂકો રોડ	ઘાટ રોડ	હા	૧	
107	પાછળનાં વાહને જ્યારે આપણા વાહનને ઓવરટેક કરવાનું શરૂ કર્યું કોય ત્યારે	આપણે બીજા વાહનને ઓવરટેક કરીશું નહિ	આપણે બીજા વાહનને ઓવરટેક કરી શકીએ છીએ	હોર્ન વગાડીને આપણે બીજા વાહનને ઓવરટેક કરી શકીએ છીએ	ના	૧	
108	નીચે મુજબની નિશાની શું બતાવે છે?	આગળ બેરીયર છે	રેલ્વે ક્રોસીંગ છે	આગળ વજનકાંટો છે	હા	૧	

109	આગળના વાહને ઓવરટેક કરવા દેવા માટે સિગ્નલ બતાવેલ નથી	આપણે ઓવરટેક કરી શકીએ	આપણે ઓવરટેક કરીશું નહિ	હોર્ન વગાડી આપણે ઓવરટેક કરી શકીએ	ના	૨	
110	નીચે મુજબની નિશાની શું બતાવે છે?	સાઇડ રોડ આગળ થી બંધ છે	ડાબી બાજુ વળાંક છે	આગળ પુલ છે	હા	૧	
111	નીચે મુજબના સ્થળોએ પાર્કિંગની મનાઇ છે	હોસ્પિટલના દરવાજા પાસે	રોડની ડાબી બાજુએ	માર્કેટ એશીયા	ના	૧	
112	નીચે મુજબની નિશાની શું બતાવે છે?	હોડી સેવા છે	આગળ રસ્તો નથી	રસ્તા ઉપર પાણી છે	હા	૧	
113	નીચે મુજબના સ્થળોએ પાર્કિંગની મનાઇ છે	અગ્નિશામક પ્રણાલીને અવરોધ પડે તેમ	જાહેર કુવા પાસે	રસ્તાની ડાબી બાજુએ	ના	૧	
114	નીચે મુજબની નિશાની શું બતાવે છે?	પાર્કિંગની મનાઇ છે	બંને બાજુ પાર્કિંગ થઇ શકે	પોલીસ મદદની પોસ્ટ	હા	૨	
115	મોટર સાઇલક ઉપર પાછળ વ્યક્તિને બેસાડી જવી હોય ત્યારે	વાહન ઉપર કુટ રેસ્ટ હેડ ગ્રીપ તથા સાડી ગાર્ડ લગાડવામાં આવશે	વાહન સાથે સાઇડકાર જોડવામાં આવશે	વાહન ઉપર રીઅર વ્યુ મીરર ફીટ કરવામાં આવશે	ના	૧	
116	નીચે મુજબની નિશાની શું બતાવે છે?	સ્કુટર-મોટર સાયકલ માટે પાર્કિંગ	સ્કુટર-મોટર સાયકલ માટે મનાઇ છે	સ્કુટર-મોટર સાયકલ રીપેરીંગ	હા	૧	
117	રાત્રે શહેરમાં વાહન ચલાવતી વખતે	વાહનની હેડ લાઇટના લો બીમનો ઉપયોગ કરીશું	હાઇ બીમનો ઉપયોગ કરીશું	બધી જ લાઇટો બંધ કરીશું	ના	૧	
118	નીચે મુજબની નિશાની શું બતાવે છે?	રીક્ષા માટે પાર્કિંગ	રીક્ષા માટે મનાઇ છે	રીક્ષા રીપેરીંગનું સ્થળ	હા	૧	
119	અન્ય વ્યક્તિઓ કે પેસેંજરને અડચણ પડે તેમ વાહનને જાહેર રસ્તા ઉપર રાખવામાં આવે તો	ડ્રાઇવીંગ લાઇસન્સ સસ્પેન્ડ અથવા રદ થઇ શકે છે	ફક્ત દંડ થઇ શકે છે	બંને થઇ શકે છે	ના	૩	
120	નીચે મુજબની નિશાની શું બતાવે છે?	પ્રાઇવેટ કાર માટે પ્રવેશ બંધ	ટેક્ષી માટે પાર્કિંગ	પોલીસ વાહનો માટે પાર્કિંગ	હા	૨	

121	વળાંક પહેલાં	વાહન ધીમું પાડી વળાંક લેવો	વાહન ધીમું પાડવું નહીં	વાહનની ગતી વધારવી	ના	૧	
122	નીચે મુજબની નિશાની શું બતાવે છે?	પેટ્રોલ પંપ	ગરેજ	હવા ભરવાની સગવડ છે	હા	૧	
123	રિવર્સ ગીયરમાં વાહન ચલાવવાની મનાઇ છે	એકમાગીય રસ્તા ઉપર	બજારમાં	સ્ટેટ હાઇવે ઉપર	ના	૧	
124	નીચે મુજબની નિશાની શું બતાવે છે?	લેન બદલી શકાય છે	સાવધાનીથી લેન બદલી શકાય છે	લેન બદલવાની પરવાનગી નથી	ના	૨	
125	રીક્ષાચાલક ટુંકા અંતરના ભાડા માટે ગ્રાહકને લઇ જવાની ના પડે તો	ડ્રાઇવિંગ લાઇસન્સ સસ્પેન્ડ અથવા રદ થઇ શકે છે	ફક્ત ઇંડ થઇ શકે છે	બંને થઇ શકે છે	ના	૩	
126	નીચે મુજબની નિશાની શું બતાવે છે?	પાછળથી આવતા વાહનને ઉભું રાખવાની નિશાની	જમણી બાજુ વળાંક લેવા માટેની નિશાની	સામેથી આવતા વાહનને ઉભું રાખવાની નિશાની	હા	૨	
127	તમે એવા ચાર રસ્તા ઉપર પહોંચો છો જ્યાં સીગ્નલ લાઇટ કે પોલીસમેન નથી	અન્ય રોડ ઉપરથી ચાર રસ્તા તરફ આવતા દરેક વાહનને જવા દેશો	યોગ્ય સિગ્નલ આપી હોર્ન વગાડી આગળ વધશો	તમારી જમણી તરફથી ચાર રસ્તા ઉપર આવતા ટ્રાફિકને રસ્તો આપીને આગળ વધશો	ના	૩	
128	નીચે મુજબની નિશાની શું બતાવે છે?	ડાબી બાજુ વળવાનો ઇરાદો છે	જમણી બાજુ વળવાનો ઇરાદો છે	બીજા બધા જ વાહનોને ઉભા રહેવા વિનંતી છે	હા	૧	
129	તમ એવા ચાર રસ્તા ઉપર પહોંચો છો જ્યાં પીળી સિગ્નલ લાઇટ ઝબકારા મારે છે ત્યારે	કોઇપણ જાતનો પ્રતિબંધ ન હોવાથી એ જ ગતિએ આગળ વધશો	વાહન થોભાવી લીલી લાઇટ થાય ત્યાં સુધી ઉભા રહેશો	વાહન ધીમું કરીને સલામત લાગે તેમ નકકી થાય તો આગળ વધશો	ના	૩	
130	નીચે મુજબની નિશાની શું બતાવે છે?	જમણી બાજુ વળવાનો ઇરાદો છે	સામેથી આવતા વાહનને થોભાવવા વિનંતી	પોતાનું વાહન ધીમું કરવાનો ઇરાદો	હા	૩	

131	તમે જ્યારે ચઢાણવાળા રસ્તા ઉપર વાહન ચલાવતા હોવ ત્યારે	ઢાળ ઉતરતા વાહનને પહેલા જવાની અગ્રતા આપવી જોઈએ	ચઢાણ ચઢતા વાહનને પહેલા જવાની અગ્રતા આપવી જોઈએ	વધુ વજન લઈને જતા વાહનને પહેલી અગ્રતા આપવી જોઈએ	ના	૨	
132	નીચે મુજબની નિશાની શું બતાવે છે?	સીધા આગળ જવાનો ઇરાદો	વાહન ઉભુ રાખવાનો ઇરાદો	જમણી બાજુ વળવાનો ઇરાદો	હા	૨	
133	નાના સાઇડ રોડ ઉપરથી મેઇન રોડ ઉપર પ્રવેશ કરતી વખતે ડ્રાઇવર શેની અગ્રતા આપશે	ડાબી બાજુથી આવતા દરેક વાહનને જવા દેશે	જમણી બાજુથી આવતા દરેક વાહનને જવા દેશે	પસાર થતા દરેક વાહનને જવા દેશે	ના	૨	
134	નીચે મુજબની નિશાની શું બતાવે છે?	પાછળ આવતા વાહનને ઉભું રાખવા વિનંતી	પાછળથી આવતા વાહનને પસાર થઈ જવા વિનંતી	સામેથી આવતા વાહનને ઉભું રાખવા વિનંતી	હા	૨	
135	તમે વાહનની ડાબી બાજુથી ઓવર ટેઇક કરી શકો છો જો-	આગળનું વાહન જમણી બાજુ વળવા માટે સિગ્નલ બતાવીને વાહનને જમણીબાજુ રાખે	ડાબી બાજુ પૂરતી જગ્યા હોય તો	આગળનું વાહન ધીમી ગતી કરતું હોય તો	ના	૧	
136	સફ્ટ રંગથી રસ્તા ઉપર તૂટક-તૂટક લાઇન ચીતરેલો હોય તો તમે શું કરશો?	તમે ટ્રેક બદલશો નહિ	જરૂર પડે તો ટ્રેક બદલશો	વાહન થોભાવી દેશો	ના	૨	
137	તમે મોટર સાઇકલનું લર્નર લાઇસન્સ ધરાવતા હોય તો	તમે જ્યારે ટ્રાફિક ઓછો હોય ત્યારે હાંકશો	મોટર સાઇકલનું ડ્રાઇવીંગ લાઇસન્સ ધરાવનાર ઇન્સ્ટ્રક્ટર તમારી સાથે હશે તો જ તમે હાંકશો	તમે વાહન ઉપર કોઇપણ વ્યક્તિને પાછળ બેસાડશો	ના	૨	
138	નીચે મુજબની નિશાની શું બતાવે છે?	વાહન થોભો	નો પાર્કિંગ	આગળ હોસ્પિટલ છે	હા	૨	

139	ખાનગી વાહનમાં કેટલી વ્યક્તિ બેસાડી શકાય તે કયા દસ્તાવેજમાં હોય છે?	રજીસ્ટ્રેશન સર્ટીફિકેટમાં દર્શાવેલ સંખ્યા મુજબની વ્યક્તિ	ટેક્સ ટોકન માં	પરમીટ માં	ના	૧	
140	નીચે મુજબની નિશાની શું બતાવે છે?	ડાબી બાજુ હાંકો	ડાબી બાજુ રસ્તો નથી	ફરજિયાત ડાબી બાજુ વાળો	હા	૩	
141	કયા પ્રકારનાં હોર્ન માન્ય છે	એર-હોર્ન	મલ્ટી ટોન હોર્ન	ઇલેક્ટ્રીક હોર્ન	ના	૩	
142	નીચે મુજબની નિશાની શું બતાવે છે?	રસ્તો આપો	હોસ્પિટલ છે	પ્રાથમિક ચિકીત્સા	હા	૨	
143	પીળા રંગની ટ્રાફિક લાઇટ ઝબુક-ઝબુક થાય છે એનો અર્થ	લીલી લાઇટ થાય ત્યાં સુધી થોભો	વાહન થોભાવો અને સલામત હોય તો આગળ વધો	વાહનની ગતિ ઓછી કરો અને સલામતી પૂર્વક આગળ વધો	ના	૩	
144	નીચે મુજબની નિશાની શું બતાવે છે?	યુ ટર્ન મનાઇ છે	જમણી બાજુ વળવાની મનાઇ છે	ડાબી બાજુથી ઓવર ટેકિંગ મનાઇ છે	હા	૨	
145	મોટર સાઇકલ માટે વધુમાં વધુ સ્પીડ	કોઇ મર્યાદા નથી	૫૦ કિમી/કલાક	૬૦ કિમી/કલાક	ના	૨	
146	નીચે મુજબની નિશાની શું બતાવે છે?	સામે જમણી બાજુ રસ્તો છે	ફરજિયાત જમણી બાજુ વાળો	જમણી બાજુ વળવાની મનાઇ છે	હા	૨	
147	૬૫ કિ.મી. કરતા વધુ સ્પીડે ચલાવવા માન્ય વાહન ફક્ત	મોટર સાઇકલ	મોટર કાર	સ્ટેજ કરેજ બસ	ના	૨	
148	નીચે મુજબની નિશાની શું બતાવે છે?	સીધા જાવ	એકમાર્ગી રસ્તો	બંને દિશામાં જવું મનાઇ છે	હા	૩	
149	મોટર કાર ચલાવવા માટે વધુમાં વધુ ગતિ મર્યાદા કેટલી છે?	કોઇ મર્યાદા નથી	૭૦ કિમી/કલાક	૫૦ કિમી/કલાક	ના	૧	
150	નીચે મુજબની નિશાની શું બતાવે છે?	ડાબી બાજુ રોડ છે	ડાબે વળો	ડાબી બાજુ વળવું નહીં	હા	૧	

151	વધુમાં વધુ ૫૦ કિમી/કલાકની ઝડપ થી મોટર સાઇકલ ચલાવી શકાય છે	રાત્રિ દરમિયાન	દિવસ દરમિયાન	કોઇપણ સમયે	ના	૩	
152	નીચે મુજબની નિશાની શું બતાવે છે?	આગળ જમણે અને ડાબે રોડ છે	વાંકોચૂકો રસ્તો	જમણે અને ડાબે વળવું નહીં	હા	૧	
153	કાયદા મુજબ દ્વિચક્રી વાહન ચલાવનાર વ્યક્તિ	જાકીટ પહેરશે	હેલ્મેટ પહેરશે	બુટ પહેરશે	હા	૨	
154	નીચે મુજબની નિશાની શું બતાવે છે?	આગળ ચાર રસ્તા છે	આગળ મુખ્ય રસ્તો છે	ફ્રસ્ટ એઇડ	હા	૨	
155	કાયદા મુજબ મોટર કાર ચલાવનાર વ્યક્તિ	ચશ્મા પહેરશે	સીટ બેલ્ટ બાંધશે	ટોપી પહેરશે	હા	૨	
156	નીચે મુજબની નિશાની શું બતાવે છે?	ફાટકવાળું રેલ્વે ક્રોસિંગ	ફાટક વગરનું રેલ્વે ક્રોસિંગ	૨૦૦ મીટર આગળ ફાટકવાળું રેલ્વે ક્રોસિંગ	હા	૧	
157	કાર ચલાવવા માટેનું લાયસન્સ લેવા માટે જરૂરી ઉંમર	૧૬ વર્ષ	૧૮ વર્ષ	૨૦ વર્ષ	ના	૨	
158	નીચે મુજબની નિશાની શું બતાવે છે?	હોસ્પિટલ	આરામગૃહ	ફ્રસ્ટ એઇડ	હા	૨	
159	કોમર્શીયલ વાહન ચલાવવા માટેનું લાયસન્સ લેવા માટે જરૂરી ઉંમર	૧૮ વર્ષ	૨૧ વર્ષ	૨૦ વર્ષ	ના	૩	
160	વાહન પાર્કિંગ કરતી વખતે....	ગીયરમાં રાખવું	પાર્કિંગ બ્રેક લગાડો	માત્ર હેઝાર્ડ (પાર્કિંગ) લાઇટ ચાલુ કરો	ના	૨	
161	વાહનના વીમાની મુદત	૬ માસ	૧ વર્ષ	૨ વર્ષ	ના	૨	
162	ખાનગી વાહનની નંબર પ્લેટ નો રંગ	કાળા રંગની પ્લેટ ઉપર પીળા અક્ષર	પીળા રંગની પ્લેટ ઉપર કાળા અક્ષર	સફેદ રંગની પ્લેટ ઉપર કાળા અક્ષર	ના	૩	



163	ટ્રાફિક જંકશન ઉપર લીલી લાઇટ પછી કઇ લાઇટ થશે.	લાલ	ભૂરી	પીળી	ના	3	
164	કોઇ જગ્યાએ રસ્તા ઉપર તમારી કારને રીવર્સ કરવી સલામત નથી, તમારે	આગળ જવું અને રીવર્સ કરવા અનુકૂળ જગ્યા શોધશો	બધા જ રીઅર વ્યુ મીરરનો યોગ્ય ઉપયોગ કરવો	રીવર્સ હોર્ન ચાલુ કરી વાહન રીવર્સ કરશો	ના	૧	
165	ડ્રાઇવીંગ કરતી વખતે ડ્રાઇવર કઇ રીતે થાક ઉતારશે.	દારૂ પીને	દર બે કલાકે વાહન ઉભું રાખી આરામ કરીને	સંગીત સાંભળીને	ના	૨	
166	વરસાદમાં બ્રેક લગાવતી વખતે સ્ટોપીંગ ડીસ્ટન્સ ઉપર શું અસર પડે છે	સ્ટોપીંગ ડીસ્ટન્સ વધે છે	સ્ટોપીંગ ડીસ્ટન્સ ઓછું થાય છે	કોઇ અસર થતી નથી	ના	૧	
167	અકસ્માત વખતે મેડીકલ મદદ મેળવવા કયો ફોન નંબર ડાયલ કરશો.	૧૦૮ અથવા ૧૦૨	૧૦૧	આ પૈકી કોઇપણ	ના	૧	
168	અકસ્માતનાં કિસ્સામાં ડ્રાઇવર ડ્રાઇવીંગ લાયસન્સ ધરાવતા નથી.	ઇન્સ્યુરન્સ કંપની સંપૂર્ણ કલેઇમ આપશે.	ઇન્સ્યુરન્સ કંપની કલેઇમ નામંજૂર કરશે.	અંશતઃ કલેઇમ મંજૂર કરશે.	ના	૨	
169	સગીર બાળક ડ્રાઇવીંગ કરતાં અકસ્માત થાય તો?	સગીર હોવાથી તેને સજા ન થઇ શકે	બાળકના માબાપ અથવા વાલીને પણ જવાબદાર ગણાશે.	કાયદેસર પોલીસ ફરીયાદ નોંધાવવી અને તે મુજબ દંડ થશે	ના	3	
170	ભાડેથી ફરતા વાહનની નંબર પ્લેટ કયા કલરની હોય છે?	પીળી પ્લેટ ઉપર કાળા અક્ષરો	કાળી પ્લેટ ઉપર પીળા અક્ષરો	સફેદ પ્લેટ ઉપર કાળા અક્ષરો	ના	૧	
171	લાલ અને સફેદ પટાવાળી રીબન થી કરેલ કોર્ડન કરેલ જગ્યા શું બતાવે છે?	રોડ રીપેરીંગ નું કામ ચાલુ છે.	સંભવીત અકસ્માત વિસ્તાર	આગળ ચેકપોસ્ટ છે	ના	૧	

172	અકસ્માતના કિસ્સામાં પેસેન્જરના બચાવ માટે સલામતીનું કયું સાધન ફરજિયાત છે.	સીટ બેલ્ટ	બ્રેક પેડલ	એર બેગ	ના	૧	
173	આર.ટી.ઓ ધ્વારા આપવામાં આવેલ લાયસન્સ કયાં માન્ય છે.	સમગ્ર દેશમાં	ફક્ત જે તે રાજ્યમાં	ફક્ત જે તે જીલ્લામાં	ના	૧	
174	રાત્રિના સમયે તમારું વાહન પાર્કિંગ કરતી વખતે તમે શું કરશો?	પાર્કિંગ બ્રેક મારીશું	પાર્કિંગ લાઇટ ચાલુ કરીશું	બંને કરીશું	ના	૩	
175	ઢોળાવવાળા રસ્તા ઉપરથી નીચે ઉતરતી વખતે તમે શું કરશો.	કલચ પેડલ દબાવી વાહનને ચાલવા દેશો.	બળતણ બચાવવા એન્જીન બંધ કરીને વાહનને ઉતરવા દેશો.	બંને ટાળશો.	ના	૩	
176	ટ્રિચકી વાહન ચલાવાતી વખતે મહિલાઓ માટે હેલ્મેટ પહેરવી...	કાયદાથી ફરજિયાત છે	કાયદાથી ફરજિયાત નથી	હેલ્મેટ પહેરવી કે નહીં તે તેમની મુનસફી ઉપર છે	ના	૧	
177	ડ્રાઇવિંગ કરતી વખતે મોબાઇલ ફોનનો ઉપયોગ કરવાથી	અકસ્માતની શક્યતા વધે છે.	કામનો અને સમયનો બચાવ થશે	આપાતકાલીન સંજોગોમાં માન્ય છે.	ના	૧	
178	રોડ સાઇનમાં વપરાતી સ્ટોપ લાઇનમાં કયો કલર હોય છે	પીળો	સફેદ	પીળો અને કાળો	ના	૨	
179	વાહન ઉભું રાખવા માટે ડાબી લાઇનમાં જવા તમે..	ડાબી બાજુની ઇન્ડીકેટર લાઇટ ચાલુ કરશો	જમણી બાજુની ઇન્ડીકેટર લાઇટ ચાલુ કરશો	પાર્કિંગ લાઇટ ચાલુ કરશો	ના	૧	
180	પાકા લાયસન્સ માટે તમે કેટલા દિવસ પછી અરજી કરી શકો...	લર્નિંગ લાયસન્સ ઇસ્યુ થયાની તારીખ થી ૩૦ દિવસ પછી	લર્નિંગ લાયસન્સ થયાની તારીખ થી ૬૦ દિવસ પછી	લર્નિંગ લાયસન્સ થયાની તારીખથી ૧૮૦ દિવસ પછી	ના	૧	

181	વાહનમાં ટાયરો આગળ પાછળ ફેરબદલી કરવી કેમ સલાહભરેલ છે?	એને લીધે વ્હીલ બેલેન્સીંગ જાળવાઈ રહે છે	એનાથી વ્હીલ એલાઇમેન્ટ જાળવાઈ રહે છે	ટાયરોને અસામાન્ય ઘસારો અટકે છે	ના	૩	
182	રસ્તા ઉપર લેન બદલતી વખતે...	હોર્ન વગાડો અને લેન બદલો	ઇન્ડીકેટર બતાવો અને લેન બદલો	ઇન્ડીકેટર બતાવવાની જરૂરી નથી. ફક્ત રીઅર વ્યુ મીરર માં જુઓ અને લેન બદલો	ના	૨	
183	કારની ડેશબોર્ડ ઉપર લગાડેલ ટેમ્પરેચર મીટર શેનું તાપમાન બતાવે છે	કારની બહારનાં વાતાવરણનું તાપમાન	કારની અંદરનું તાપમાન	એજીન	ના	૩	
184	ડ્રાઇવિંગ કરતી વખતે તમે શેનું ધ્યાન રાખશો	વાતાવરણ અને રસ્તાની પરિસ્થિતિ	તમારી આજુબાજુનો ટ્રાફિક	બંને	ના	૩	
185	લાંબા વાહનની પાછળ હાંકતી વખતે તમે....	તે વાહનથી ઓછું અંતર જાળવશો	તેની ખૂબ નજીક વાહન હાંકી શકો કારણ કે તે વાહન થોભવાનું નથી	ઘણું વધારે અંતર રાખશો જેથી આગળનાં ટ્રાફિકને સારી રીતે જોઈ શકાય	ના	૩	
186	માન્ય સેન્ટરમાંથી તમે એલપીજી/સીએનજી કિટ ફિટ કરાવી છે. આરટીઓ માંથી તેની નોંધણી કરાવવી ફરજિયાત છે.	હા	ના	જરૂરી નથી કારણ તે માન્ય સેન્ટરમાં કરાવેલ છે	ના	૧	
187	બ્રેક લાઇટ વગર વાહન ચલાવવું એ	દ્રિચકી વાહન માટે માન્ય છે	એ ગુન્હો છે	ફક્ત ટ્રકમાં માન્ય	ના	૨	
188	કારની આગળની સીટ ઉપર બેઠેલા ૧૦ વર્ષના બાળકે સીટ બેલ્ટ લગાવવો જરૂરી છે?	બાળકો માટે જરૂરી નથી	ફરજિયાત છે	ફક્ત પાછળની સીટ માટે જરૂરી છે	ના	૨	

189	જ્યારે કારમાં ચાઇલ્ડ લોક ચાલુ કરેલ હોય ત્યારે	દરવાજો ફક્ત અંદરની બાજુ ખોલી શકાય	દરવાજો બહારની બાજુથી ખોલી શકાય	દરવાજો બંને સાઇડથી ખોલી શકાય	ના	૨	
190	સાઇલેસર વગર વાહન ચલાવવું એ	ગુન્હો છે	ગુન્હો નથી	વાહનનો અવાજ બદલવા માટે માન્ય છે	ના	૧	
191	રીવર્સ લાઇટનો રંગ કેવો હોય છે?	લાલ	સફેદ	કેસરી	ના	૨	
192	કયા પ્રકારના વાહન ચલાવવા માટે ચાલકે ગણવેશ પહેરવો ફરજિયાત છે?	પ્રાઇવેટ વાહનો	તમામ કોર્મશીયલ વાહનો	બધા જ વાહનો	ના	૨	
193	વાહન ચલાવતી વખતે ચાલકે ડ્રાઇવિંગ લાયસન્સ કયા સ્વરૂપે સાથે રાખવું ફરજિયાત છે?	અસલ લાયસન્સ	રંગીન ઝેરોક્ષ	પ્રમાણિત નકલ	ના	૧	
194	ડ્રાઇવિંગ લાયસન્સ ની મુદત પુરી થયા બાદ કેટલા સમય સુધી ચાલક વાહન ચલાવી શકે?	૩૦ દિવસ	એક દિવસ પણ નહીં	૬૦ દિવસ	ના	૧	
195	અકસ્માતના સંજોગોમાં કોઇ વ્યક્તિની ચામડી બળી ગઇ હોય છે તો આપ શું કરશો	બળેલા ભાગને ઠંડા પાણીથી ધોઇને ઘાયલ વ્યક્તિને છાંયડામાં લઇ જશો અને એમ્બ્યુલન્સ બોલાવશો	ફોલ્લા પડ્યા હોય તો તે ફોડશો	ચામડી સાથે ચોટેલા કપડાં ઉભાડશો	ના	૧	
196	અકસ્માતના સંજોગોમાં માનવ જીવનને બચાવવા કયા પ્રકારનું જ્ઞાન આપને મદદરૂપ થઇ શકે છે?	વાહનની માવજત	પ્રાથમિક સારવાર	કાયદાકીય	ના	૨	

197	અકસ્માતના સંજોગોમાં કોઈ વ્યક્તિને પીઠ / કરોડરજજીમાં ઇજા થઈ છે તો આપ...	ઘાયલ વ્યક્તિને ઉંચકીને સલામત સ્થળે લઈ જશો.	ઘાયલ વ્યક્તિને ખસેડશો નહીં અને અન્ય વાહન ચાલકોને અકસ્માત અંગે ચેતવણી આપશો	ઘાયલ વ્યક્તિના પગ ઉંચા કરીને ઇજાને તપાસશો	ના	૨	
198	અકસ્માતના સંજોગોમાં ઘાયલ વ્યક્તિએ પહેરેલ હેલ્મેટમાંથી લોહી નીકળતું હોય તો આપ...	તેની હેલ્મેટ ઉતારશો નહીં અને એમ્બ્યુલન્સ બોલાવશો.	હેલ્મેટ ઉતારીને ઇજા તપાસશો.	હેલ્મેટ ઉતારીને એમ્બ્યુલન્સ બોલાવશો	ના	૧	
199	પ્રાથમિક સારવારમાં એ,બી,સી નો અર્થ શું થાય?	એટેન્ટીવ, બ્રીધ, કોન્ટેક્ટ	એર વે, બ્રીધીગ, સર્ક્યુલેશન	એક્સીલરેટર, બ્રેક, કલચ	ના	૨	
200	અકસ્માત માં બેભાન થયેલ વ્યક્તિને મદદરૂપ થવા આપ શું કરશો?	તેના કપડાં ઢીલા કરશો	આજુબાજુ ભીડ ન થવા દઈ તેને પુરતી હવા મળી રહે તેવી વ્યવસ્થા કરશો અને જો શિયાળો હોય તો ગરમ ધાબળો ઓઢાડશો	બંન્ને કરશો	ના	૩	
201	પુખ્ત વયના વ્યક્તિના હૃદયના ધબકારા સામાન્ય રીતે કેટલા હોય છે?	૫૦ પ્રતિ મિનિટ	૭૦ પ્રતિ મિનિટ	૧૦૦ પ્રતિ મિનિટ	ના	૨	
202	મોબાઇલ ફોન ક્યારે વાપરી શકાય?	જ્યારે વાહન અત્યંત ધીમી ગતીએ ચાલતું હોય ત્યારે	જ્યારે વાહન મધ્યમ ગતીએ એક્સપ્રેસ હાઇવે પર ચાલતું હોય ત્યારે	જ્યારે વાહન સાઇડમાં પાર્ક કરેલ હોય ત્યારે	ના	૩	
203	આલ્કોહોલનું સેવન કર્યા બાદ વાહન ચલાવવાથી...	ચાલકનું જજમેન્ટ ખોટું પડી શકે છે	ચાલકની દ્રષ્ટિ નબળી પડી શકે છે	બંન્ને થઈ શકે છે	ના	૩	

204	તમે વાહનનો ફ્યુઅલ વપરાશ ઘટાડવા:	વાહનનું યોગ્ય ટ્યુનીંગ કરાવશો	વાહન ને યોગ્ય રીતે સાફ રાખશો	વાહન ચલાવતી વખતે કલચનો વધુ પડતો ઉપયોગ કરશો	ના	૧	
205	અયોગ્ય રીતે ગીયર બદલવાથી	ગીયર બોક્ષને નુકશાન થઈ શકે છે	વધુ ફ્યુઅલ વપરાશે	બંને થઈ શકે છે	ના	૩	
206	નીચે મુજબની નિશાની શું બતાવે છે?	આગળ રસ્તો નથી	આગળ બમ્પ છે	રોડ ઉપર રીપેરીંગ કામ ચાલુ છે	હા	૧	
207	નીચે મુજબની નિશાની શું બતાવે છે?	એકતરફી રસ્તો	બંને દિશામાં વાહનો લઈ જવાની મનાઈ છે	ઓવર ટેઇક કરવાની મનાઈ છે	હા	૧	
208	રોડની મધ્યમાં દોરેલ પીળા રંગની સળંગ રેખાનો એટલે	ઓવરટેઇક કરી શકાય	પીળી લાઇન ક્રોસ કરવાની મનાઈ છે	ચાલક આ લાઇન પાર કરી શકે	હા	૨	